

1. Вектори и координати – решения на задачите

1.1. Линейна зависимост и независимост на вектори в равнината и в пространството

Задача 1. Решение.

А) Векторите \vec{a} и \vec{b} лежат на пресичащи се прави, следователно са линейно независими.

Нека точка D е такава, че четириъгълникът $ADBC$ е успоредник, тогава $\vec{c} = \overrightarrow{CD} = \vec{a} + \vec{b}$ (правило на успоредника).

Векторите $\vec{a} = \overrightarrow{CA}$ и $\vec{c} = \overrightarrow{CD}$ са неколинеарни, като страна и диагонал на един успоредник, следователно са линейно независими.

В) $\vec{d} = \overrightarrow{BA} = \vec{a} - \vec{b}$ (правило на триъгълника), $\overrightarrow{CB} = \vec{b}$ и тъй като \overrightarrow{BA} и \overrightarrow{CB} са неколинеарни, то \vec{b} и \vec{d} са линейно независими.

Г) Имаме $\vec{f} = \vec{c} + \vec{d} = \vec{a} + \vec{b} + \vec{a} - \vec{b} = 2\vec{a}$, т.е. $\vec{f} = 2\vec{a} \Rightarrow \vec{a}$ и \vec{f} са линейно зависими.

Задача 2. Решение.

От правилото на триъгълника имаме $\overrightarrow{AM} = -\vec{a} + \frac{1}{2}\vec{b}$, $\overrightarrow{BN} = \frac{1}{2}\vec{a} - \vec{b}$ и $\overrightarrow{AB} = -\vec{a} + \vec{b}$.

Тъй като P е средата на AB , то $\overrightarrow{CP} = \frac{1}{2}\vec{a} + \frac{1}{2}\vec{b}$.

Точка G е медицентърът на $\triangle ABC \Rightarrow \overrightarrow{CG} = \frac{1}{3}(\overrightarrow{CA} + \overrightarrow{CB} + \overrightarrow{CC}) = \frac{1}{3}\vec{a} + \frac{1}{3}\vec{b}$.

Задача 5. Решение.

По условие $\vec{m} = \vec{a} - \lambda\vec{b}$, $\vec{n} = 3\vec{a} + 2\vec{b}$ и \vec{m} и \vec{n} са линейно зависими \Rightarrow съществува число x , така че $\vec{m} = x\vec{n}$, откъдето

$$\begin{aligned} \vec{a} - \lambda\vec{b} &= x(3\vec{a} + 2\vec{b}) \\ (3x-1)\vec{a} + (2x+\lambda)\vec{b} &= \vec{0}. \quad (1) \end{aligned}$$

Тъй като \vec{a} и \vec{b} са линейно независими, то коефициентите в линейната комбинация (1) са равни на 0 и получаваме системата $\begin{cases} 3x-1=0 \\ 2x+\lambda=0 \end{cases} \Leftrightarrow x = \frac{1}{3}, \lambda = -\frac{2}{3}$.

Задача 6. Решение.

В равенството $\vec{u} - \vec{v} = \vec{a}$ заместваме $\vec{u} = x\vec{a} + 2y\vec{b}$ и $\vec{v} = \vec{a} - 3\vec{b}$.

Имаме:

$$\begin{aligned} x\vec{a} + 2y\vec{b} - (\vec{a} - 3\vec{b}) &= \vec{a} \\ (x-2)\vec{a} + (2y+3)\vec{b} &= \vec{0}. \end{aligned}$$

Получихме линейна комбинация на линейно независимите вектори \vec{a} и $\vec{b} \Rightarrow$ коефициентите в тази комбинация са нули, откъдето намираме $x = 2$ и $y = -\frac{3}{2}$. Тогава $\vec{u} = 2\vec{a} - 3\vec{b}$.

Задача 7. Решение.

По условие $\vec{a} = \vec{f} - \alpha\vec{g}$, $\vec{b} = 2\vec{g}$ и $\vec{c} = \beta\vec{f} + \alpha\vec{g}$. Трябва да е изпълнено $\vec{c} = \vec{a} - \vec{b}$. В последното равенство заместваме \vec{a} , \vec{b} и \vec{c} с равните им изрази. Получаваме:

$$\begin{aligned} \beta\vec{f} + \alpha\vec{g} &= \vec{f} - \alpha\vec{g} - (2\vec{g}) \\ (\beta-1)\vec{f} + (2\alpha+2)\vec{g} &= \vec{0} \end{aligned}$$

и от линейната независимост на \vec{f} и \vec{g} намираме $\beta = 1$ и $\alpha = -1$. Тогава $\vec{a} = \vec{f} + \vec{g}$ и $\vec{c} = \vec{f} - \vec{g}$.

Задача 8. Решение.

Векторът $\vec{m} - \vec{n}$ е колинеарен с $\vec{b} \Rightarrow$ съществува число z , така че

$$\begin{aligned} \vec{m} - \vec{n} &= z\vec{b} \\ x\vec{a} + 2\vec{b} - (\vec{a} - y\vec{c}) &= z\vec{b} \\ (x-1)\vec{a} + (2-z)\vec{b} + y\vec{c} &= \vec{0}. \end{aligned}$$

Векторите \vec{a} , \vec{b} и \vec{c} са линейно независими $\Rightarrow \begin{cases} x-1=0 \\ 2-z=0 \\ y=0 \end{cases}$, откъдето намираме $x = 1$, $y = 0$.

Задача 9. Решение.

По условие $\vec{a} + \vec{b} + \vec{c} = 3\vec{m} + 4\vec{n} \Leftrightarrow x\vec{m} + \vec{n} - 3\vec{p} + (\vec{m} + 2y\vec{n}) + (\vec{n} + z\vec{p}) = 3\vec{m} + 4\vec{n} \Leftrightarrow (x-2)\vec{m} + (2y-2)\vec{n} + (z-3)\vec{p} = \vec{0}$. Векторите \vec{m} , \vec{n} и \vec{p} са линейно независими $\Rightarrow x = 2$, $y = 1$, $z = 3$.

Задача 10. Решение.

В равенството $\vec{p} - \vec{q} = z\vec{a} + \vec{b} + \vec{c}$ заместваме \vec{p} и \vec{q} с равните им изрази:

$$\begin{aligned} 2\vec{a} - x\vec{c} - (y\vec{b}) &= z\vec{a} + \vec{b} + \vec{c} \\ (2-z)\vec{a} + (-y-1)\vec{b} + (-x-1)\vec{c} &= \vec{0}. \end{aligned}$$

Окончателно $x = -1$, $y = -1$, $z = 2$.

1.2. Векторна база в равнината и в пространството

Задача 4. Решение.

а) В равенството $\vec{p} = \vec{m} + 2\vec{n}$ заместваме векторите \vec{m} и \vec{n} с равните им изрази:

$$\vec{p} = \vec{m} + 2\vec{n} = 2\vec{a} - 3\vec{b} + 2(\vec{a} + \vec{b}) = 4\vec{a} - \vec{b}.$$

б) $\vec{q} = \frac{1}{2}\vec{a} - \frac{2}{3}\vec{m} + \vec{n} = \frac{1}{2}\vec{a} - \frac{2}{3}(2\vec{a} - 3\vec{b}) + (\vec{a} + \vec{b}) = \frac{1}{6}\vec{a} + 3\vec{b}.$

в) $\vec{c} = -3\vec{a} - 3(2\vec{a} - 3\vec{b}) - 3(\vec{a} + \vec{b}) + \vec{b} = -12\vec{a} + 7\vec{b}.$

Задача 5. Решение.

а) $\vec{m} + \vec{n} = \vec{a} + \vec{c} + 2\vec{b} = \vec{a} + 2\vec{b} + \vec{c},$

б) $\vec{m} + \vec{n} = 3(\vec{a} - \vec{b}) + (\vec{b} - 2\vec{c}) = 3\vec{a} - 2\vec{b} - 2\vec{c}$

в) $\vec{m} + \vec{n} = \vec{a} + \vec{b} + \vec{c} + (-2\vec{c} - 3\vec{a}) = -2\vec{a} + \vec{b} - \vec{c}.$

г) $\vec{m} + \vec{n} = (-\vec{a} + \vec{b})(-2) + (-3\vec{a} - 3\vec{c} + \vec{b}) = -\vec{a} - \vec{b} - 3\vec{c}.$

Задача 6. Решение.

Като използваме правилото на триъгълника, последователно получаваме:

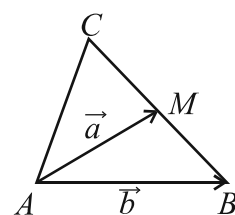
$$\overrightarrow{BM} = -\vec{b} + \vec{a} = \vec{a} - \vec{b}.$$

$$\overrightarrow{CM} = -\overrightarrow{BM} = -\vec{a} + \vec{b}.$$

$$\overrightarrow{AC} = \overrightarrow{AM} + \overrightarrow{MC} = \vec{a} + \vec{a} - \vec{b} = 2\vec{a} - \vec{b}.$$

$$\overrightarrow{BM} + \overrightarrow{AC} = \vec{a} - \vec{b} + 2\vec{a} - \vec{b} = 3\vec{a} - 2\vec{b}.$$

$$\overrightarrow{MB} + \overrightarrow{MA} - 3\overrightarrow{AC} = -\vec{a} + \vec{b} - \vec{a} - 6\vec{a} + 3\vec{b} = -8\vec{a} + 4\vec{b}.$$



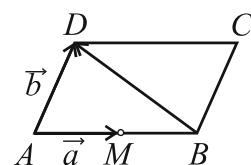
Задача 7. Решение.

$$\overrightarrow{AB} = 2\vec{a}.$$

$$\overrightarrow{BD} = -2\vec{a} + \vec{b}.$$

$$\overrightarrow{AB} - 2\overrightarrow{BC} = 2\vec{a} - 2\vec{b}.$$

$$\overrightarrow{CD} + \overrightarrow{BC} - \overrightarrow{AC} = -2\vec{a} + \vec{b} - 2\vec{a} - \vec{b} = 4\vec{a}.$$



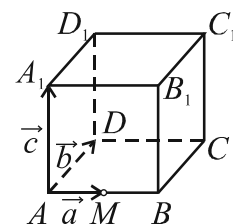
Задача 8. Решение.

$$\overrightarrow{AC} = 2\vec{a} + \vec{b}.$$

$$\overrightarrow{AC_1} = \overrightarrow{AB} + \overrightarrow{BC} + \overrightarrow{CC_1} = 2\vec{a} + \vec{b} + \vec{c}.$$

$$\overrightarrow{BD} + 2\overrightarrow{BC} = \overrightarrow{BA} + \overrightarrow{AD} + 2\overrightarrow{BC} = -2\vec{a} + \vec{b} + 2\vec{b} = -2\vec{a} + 3\vec{b}.$$

$$\overrightarrow{D_1M} = \overrightarrow{D_1D} + \overrightarrow{DA} + \overrightarrow{AM} = -\vec{c} - \vec{b} + \vec{a} = \vec{a} - \vec{b} - \vec{c}.$$



Задача 9. Решение.

Представяме вектора \vec{m} като линейна комбинация на векторите от базата:

$$\vec{m} = \vec{a} + \lambda(\vec{a} + \vec{c}) = (\lambda + 1)\vec{a} + \lambda\vec{c} \quad \text{и}$$

$$\vec{m} = \mu\vec{c} - 2\vec{a} + \vec{c} = -2\vec{a} + (1 + \mu)\vec{c}.$$

Представянето на вектор, като линейна комбинация на векторите от базата е еднозначно, следователно коефициентите пред базисните вектори в двете представяния на \vec{m} са равни, т.е.

$$\begin{cases} \lambda + 1 = -2 \\ \lambda = 1 + \mu \end{cases}, \text{откъдето } \lambda = -3, \mu = -4 \text{ и } \vec{b} = \lambda\vec{a} + \mu\vec{c} = -3\vec{a} - 4\vec{c}. \text{ Отговор В.}$$

Задача 10. Решение.

Коефициентите в двете представяния на вектора \vec{u} като линейна комбинация на векторите от базата са равни, следователно $x = 2$, $y = -3$, $z = -1$ и $\vec{v} = 2\vec{a} - 3\vec{b} - \vec{c}$.

1.3. Скалярно произведение на два вектора. Приложение

Задача 2. Решение.

$$в) 3\vec{b}(\vec{a} + \vec{b}) = 3\vec{a}\vec{b} + 3\vec{b}^2 = 3 \cdot 3 + 3 \cdot 9 = 36.$$

$$д) (\vec{a} + \vec{b})(\vec{a} - \vec{b}) = \vec{a}^2 - \vec{a}\vec{b} + \vec{b}\vec{a} - \vec{b}^2 = \vec{a}^2 - \vec{b}^2 = 4 - 9 = -5.$$

$$е) (\vec{a} - 2\vec{b})(\vec{a} + \vec{b}) = \vec{a}^2 + \vec{a}\vec{b} - 2\vec{a}\vec{b} - 2\vec{b}^2 = 4 + 3 - 6 - 18 = -17.$$

	\vec{a}	\vec{b}
\vec{a}	4	3
\vec{b}	3	9

Задача 6 Решение.

$$а) \vec{a}\vec{b} = |\vec{a}| |\vec{b}| \cos \angle(\vec{a}, \vec{b}) = 6 \cdot \frac{1}{3} \cdot \cos 30^\circ = 6 \cdot \frac{1}{3} \cdot \frac{\sqrt{3}}{2} = \sqrt{3}.$$

$$б) \vec{a}\vec{b} = |\vec{a}| |\vec{b}| \cos \angle(\vec{a}, \vec{b}) = 2 \cdot 4 \cdot \cos 45^\circ = 8 \cdot \frac{\sqrt{2}}{2} = 4\sqrt{2}$$

$$в) \vec{a}\vec{b} = |\vec{a}| |\vec{b}| \cos \angle(\vec{a}, \vec{b}) = 12 \cdot 5 \cdot \frac{1}{2} = 30.$$

$$г) \vec{a}\vec{b} = |\vec{a}| |\vec{b}| \cos \angle(\vec{a}, \vec{b}) = \frac{3}{2} \cdot \frac{3}{4} \cdot \left(-\frac{1}{2}\right) = -\frac{9}{16}.$$

Задача 7. Решение.

$$а) \cos \angle(\vec{a}, \vec{b}) = \frac{\vec{a}\vec{b}}{|\vec{a}| |\vec{b}|} = \frac{2\sqrt{2}}{2 \cdot 2} = \frac{\sqrt{2}}{2}, \quad \angle(\vec{a}, \vec{b}) = 45^\circ.$$

$$б) \cos \angle(\vec{a}, \vec{b}) = \frac{\vec{a}\vec{b}}{|\vec{a}| |\vec{b}|} = \frac{-5}{3 \cdot 2} = -\frac{5}{6}, \quad \cos \angle(\vec{a}, \vec{b}) = -\frac{5}{6}.$$

Задача 8. Решение.

$$а) \vec{u}\vec{v} = (-\vec{a} - \vec{b})(\vec{a} - 3\vec{b}) = -\vec{a}^2 + 3\vec{a}\vec{b} - \vec{a}\vec{b} + 3\vec{b}^2 = -1 + 0 + 0 + 3 = 2.$$

$$|\vec{u}| = \sqrt{\vec{u}^2} = \sqrt{(-\vec{a} - \vec{b})^2} = \sqrt{\vec{a}^2 + 2\vec{a}\vec{b} + \vec{b}^2} = \sqrt{1 + 0 + 1} = \sqrt{2}.$$

$$|\vec{v}| = \sqrt{\vec{v}^2} = \sqrt{(\vec{a} - 3\vec{b})^2} = \sqrt{\vec{a}^2 - 6\vec{a}\vec{b} + 9\vec{b}^2} = \sqrt{1 + 0 + 9} = \sqrt{10}$$

$$\cos \angle(\vec{u}, \vec{v}) = \frac{\vec{u}\vec{v}}{|\vec{u}| |\vec{v}|} = \frac{2}{\sqrt{2} \cdot \sqrt{10}} = \frac{2}{2\sqrt{5}} = \frac{\sqrt{5}}{5}.$$

$$б) \vec{u}\vec{v} = \left(\vec{a} + \frac{1}{2}\vec{b}\right)(-3\vec{a} - 2\vec{b}) = -3\vec{a}^2 - 2\vec{a}\vec{b} - \frac{3}{2}\vec{a}\vec{b} - \vec{b}^2 = -3 + 0 + 0 - 1 = -4.$$

$$|\vec{u}| = \sqrt{\vec{u}^2} = \sqrt{\left(\vec{a} + \frac{1}{2}\vec{b}\right)^2} = \sqrt{\vec{a}^2 + \vec{a}\vec{b} + \frac{1}{4}\vec{b}^2} = \sqrt{1 + 0 + \frac{1}{4}} = \frac{\sqrt{5}}{2}.$$

$$|\vec{v}| = \sqrt{\vec{v}^2} = \sqrt{(-3\vec{a} - 2\vec{b})^2} = \sqrt{9\vec{a}^2 + 12\vec{a}\vec{b} + 4\vec{b}^2} = \sqrt{9 + 0 + 4} = \sqrt{13}.$$

$$\cos \angle(\vec{u}, \vec{v}) = \frac{\vec{u}\vec{v}}{|\vec{u}| |\vec{v}|} = \frac{-4}{\frac{\sqrt{5}}{2} \cdot \sqrt{13}} = \frac{-8\sqrt{65}}{65}.$$

$$в) \vec{u} \vec{v} = \left(\frac{2}{3}\vec{a} - 2\vec{b}\right)\left(\frac{1}{3}\vec{a} + 2\vec{b}\right) = \frac{2}{9}\vec{a}^2 + \frac{4}{3}\vec{a}\vec{b} - \frac{2}{3}\vec{a}\vec{b} - 4\vec{b}^2 = \frac{2}{9} + 0 + 0 - 4 = -\frac{34}{9}.$$

$$|\vec{u}| = \sqrt{\vec{u}^2} = \sqrt{\left(\frac{2}{3}\vec{a} - 2\vec{b}\right)^2} = \sqrt{\frac{4}{9}\vec{a}^2 - \frac{8}{3}\vec{a}\vec{b} + 4\vec{b}^2} = \sqrt{\frac{4}{9} + 0 + 4} = \frac{2\sqrt{10}}{3}.$$

$$|\vec{v}| = \sqrt{\vec{v}^2} = \sqrt{\left(\frac{1}{3}\vec{a} + 2\vec{b}\right)^2} = \sqrt{\frac{1}{9}\vec{a}^2 + \frac{4}{3}\vec{a}\vec{b} + 4\vec{b}^2} = \sqrt{\frac{1}{9} + 0 + 4} = \frac{\sqrt{37}}{3}.$$

$$\cos \angle(\vec{u}, \vec{v}) = \frac{\vec{u}\vec{v}}{|\vec{u}||\vec{v}|} = \frac{-34}{9 \cdot \frac{2\sqrt{10}}{3} \cdot \frac{\sqrt{37}}{3}} = -\frac{17\sqrt{370}}{370}.$$

Задача 9. Решение.

$$а) \vec{u} \vec{v} = (\vec{a} - \vec{b} + 3\vec{c})(2\vec{a} - \vec{b} + \vec{c}) =$$

$$= 2\vec{a}^2 - \vec{a}\vec{b} + \vec{a}\vec{c} - 2\vec{a}\vec{b} + \vec{b}^2 - \vec{b}\vec{c} + 6\vec{a}\vec{c} - 3\vec{b}\vec{c} + 3\vec{c}^2 = 2 + 0 + 0 + 0 + 1 + 0 + 0 + 0 + 3 = 6.$$

$$|\vec{u}| = \sqrt{\vec{u}^2} = \sqrt{(\vec{a} - \vec{b} + 3\vec{c})^2} = \sqrt{\vec{a}^2 + \vec{b}^2 + 9\vec{c}^2 - 2\vec{a}\vec{b} + 6\vec{a}\vec{c} - 6\vec{b}\vec{c}} = \sqrt{1 + 1 + 9} = \sqrt{11}.$$

$$|\vec{v}| = \sqrt{\vec{v}^2} = \sqrt{(2\vec{a} - \vec{b} + \vec{c})^2} = \sqrt{4\vec{a}^2 + \vec{b}^2 + \vec{c}^2 - 4\vec{a}\vec{b} + 4\vec{a}\vec{c} - 2\vec{b}\vec{c}} = \sqrt{4 + 1 + 1} = \sqrt{6}.$$

$$\cos \angle(\vec{u}, \vec{v}) = \frac{\vec{u}\vec{v}}{|\vec{u}||\vec{v}|} = \frac{6\sqrt{11} \cdot \sqrt{6}}{6 \cdot 11} = \frac{\sqrt{66}}{11}.$$

$$б) \vec{u} \vec{v} = (\vec{b} - 2\vec{c})(2\vec{a} + 2\vec{b} - \vec{c}) =$$

$$= 2\vec{a}\vec{b} + 2\vec{b}^2 - \vec{b}\vec{c} - 4\vec{a}\vec{c} - 4\vec{b}\vec{c} + 2\vec{c}^2 = 0 + 2 + 0 + 0 + 0 + 2 = 4.$$

$$|\vec{u}| = \sqrt{\vec{u}^2} = \sqrt{(\vec{b} - 2\vec{c})^2} = \sqrt{\vec{b}^2 - 4\vec{b}\vec{c} + 4\vec{c}^2} = \sqrt{1 + 0 + 4} = \sqrt{5}.$$

$$|\vec{v}| = \sqrt{\vec{v}^2} = \sqrt{(2\vec{a} + 2\vec{b} - \vec{c})^2} = \sqrt{4\vec{a}^2 + 4\vec{b}^2 + \vec{c}^2 + 8\vec{a}\vec{b} - 4\vec{a}\vec{c} - 4\vec{b}\vec{c}} = \sqrt{4 + 4 + 1} = 3.$$

$$\cos \angle(\vec{u}, \vec{v}) = \frac{\vec{u}\vec{v}}{|\vec{u}||\vec{v}|} = \frac{4}{\sqrt{5} \cdot 3} = \frac{4\sqrt{5}}{15}.$$

Задача 10. Решение.

Определяме скалярните произведения на базисните вектори.

$$а) \vec{u} \vec{v} = (\vec{a} - \vec{b})(\vec{a} + 2\vec{b} - \vec{c}) =$$

$$= \vec{a}^2 + 2\vec{a}\vec{b} - \vec{a}\vec{c} - \vec{a}\vec{b} - 2\vec{b}^2 + \vec{b}\vec{c} = 1 + 0 - 1 + 0 - 2 + 0 = -2.$$

$$|\vec{u}| = \sqrt{\vec{u}^2} = \sqrt{(\vec{a} - \vec{b})^2} = \sqrt{\vec{a}^2 - 2\vec{a}\vec{b} + \vec{b}^2} = \sqrt{1 + 0 + 1} = \sqrt{2}.$$

$$|\vec{v}| = \sqrt{\vec{v}^2} = \sqrt{(\vec{a} + 2\vec{b} - \vec{c})^2} =$$

$$\sqrt{\vec{a}^2 + 4\vec{b}^2 + \vec{c}^2 + 4\vec{a}\vec{b} - 2\vec{a}\vec{c} - 4\vec{b}\vec{c}} = \sqrt{1 + 4 + 4 + 0 - 2 + 0} = \sqrt{7}.$$

$$\cos \angle(\vec{u}, \vec{v}) = \frac{\vec{u}\vec{v}}{|\vec{u}||\vec{v}|} = \frac{-2}{\sqrt{2} \cdot \sqrt{7}} = -\frac{\sqrt{14}}{7}.$$

	\vec{a}	\vec{b}	\vec{c}
\vec{a}	1	0	1
\vec{b}	0	1	0
\vec{c}	1	0	4

$$\begin{aligned}
 \text{б) } \vec{u}\vec{v} &= (\vec{a} + \vec{c})(\vec{a} + \vec{b} + 2\vec{c}) = \\
 &= \vec{a}^2 + \vec{a}\vec{b} + 2\vec{a}\vec{c} + \vec{a}\vec{c} + \vec{b}\vec{c} + 2\vec{c}^2 = 1 + 0 + 2 + 1 + 0 + 8 = 12. \\
 |\vec{u}| &= \sqrt{\vec{u}^2} = \sqrt{(\vec{a} + \vec{c})^2} = \sqrt{\vec{a}^2 + 2\vec{a}\vec{c} + \vec{c}^2} = \sqrt{1 + 2 + 4} = \sqrt{7}. \\
 |\vec{v}| &= \sqrt{\vec{v}^2} = \sqrt{(\vec{a} + \vec{b} + 2\vec{c})^2} = \\
 &= \sqrt{\vec{a}^2 + \vec{b}^2 + 4\vec{c}^2 + 2\vec{a}\vec{b} + 4\vec{a}\vec{c} + 4\vec{b}\vec{c}} = \sqrt{1 + 1 + 16 + 0 + 4 + 0} = \sqrt{22}. \\
 \cos \angle(\vec{u}, \vec{v}) &= \frac{\vec{u}\vec{v}}{|\vec{u}||\vec{v}|} = \frac{12}{\sqrt{7} \cdot \sqrt{22}} = \frac{6\sqrt{154}}{77}.
 \end{aligned}$$

$$\begin{aligned}
 \text{в) } \vec{u}\vec{v} &= (\vec{a} - \vec{b} - \vec{c})(2\vec{b} + \vec{c}) = 2\vec{a}\vec{b} + \vec{a}\vec{c} - 2\vec{b}^2 - \vec{b}\vec{c} - 2\vec{b}\vec{c} - \vec{c}^2 = 0 + 1 - 2 + 0 + 0 - 4 = -5. \\
 |\vec{u}| &= \sqrt{\vec{u}^2} = \sqrt{(\vec{a} - \vec{b} - \vec{c})^2} = \sqrt{\vec{a}^2 + \vec{b}^2 + \vec{c}^2 - 2\vec{a}\vec{b} - 2\vec{a}\vec{c} + 2\vec{b}\vec{c}} = \sqrt{1 + 1 + 4 + 0 - 2 + 0} = 2. \\
 |\vec{v}| &= \sqrt{\vec{v}^2} = \sqrt{(2\vec{b} + \vec{c})^2} = \sqrt{4\vec{b}^2 + 4\vec{b}\vec{c} + \vec{c}^2} = \sqrt{4 + 0 + 4} = 2\sqrt{2}. \\
 \cos \angle(\vec{u}, \vec{v}) &= \frac{\vec{u}\vec{v}}{|\vec{u}||\vec{v}|} = \frac{-5}{2 \cdot 2 \cdot \sqrt{2}} = -\frac{5\sqrt{2}}{8}.
 \end{aligned}$$

Задача 11. Решение.

Изразяваме вектора \vec{v} чрез базата: $\vec{v} = 2\vec{u} - \vec{a} - \vec{b} = 2(\vec{a} - 2\vec{b}) - \vec{a} - \vec{b} = \vec{a} - 5\vec{b}$.

$\vec{v}\vec{a} = (\vec{a} - 5\vec{b})\vec{a} = \vec{a}^2 - 5\vec{a}\vec{b} = 1 - 0 = 1$. Отговор Б.

Задача 12. Решение.

За да намерим неизвестните числа x , y и z , представяме по два начина вектора $\vec{m} - \vec{a}$, като линейна комбинация на векторите от базата:

$$\begin{aligned}
 \vec{m} - \vec{a} &= x\vec{b} - 2\vec{a} + \vec{c} - \vec{a} = -3\vec{a} + x\vec{b} + \vec{c} \text{ и} \\
 \vec{m} - \vec{a} &= z\vec{c} + \vec{n} = z\vec{c} + y\vec{a} + 4\vec{b} - 2\vec{c} = y\vec{a} + 4\vec{b} + (z - 2)\vec{c}.
 \end{aligned}$$

Представянето на вектор, като линейна комбинация на векторите от базата е еднозначно, следователно $y = -3$, $x = 4$ и $z = 3$.

Тогава за \vec{m} и \vec{n} и скалярното им произведение получаваме:

$$\begin{aligned}
 \vec{m} &= -2\vec{a} + 4\vec{b} + \vec{c}, \\
 \vec{n} &= -3\vec{a} + 4\vec{b} - 2\vec{c}, \\
 \vec{m}\vec{n} &= (-2\vec{a} + 4\vec{b} + \vec{c})(-3\vec{a} + 4\vec{b} - 2\vec{c}) = \\
 &= 6\vec{a}^2 - 8\vec{a}\vec{b} + 4\vec{a}\vec{c} - 12\vec{a}\vec{b} + 16\vec{b}^2 - 8\vec{b}\vec{c} - 3\vec{a}\vec{c} + 4\vec{b}\vec{c} - 2\vec{c}^2 = 6 + 16 - 2 = 20.
 \end{aligned}$$

Задача 13. Решение.

Векторът $\vec{m} + \vec{n}$ е колинеарен с вектора \vec{c} , следователно съществува число z , така че $\vec{m} + \vec{n} = z\vec{c}$. В това равенство заместваме \vec{m} и \vec{n} с равните им изрази:

$$\begin{aligned} x\vec{a} - 3\vec{b} - \vec{c} + \vec{a} + y\vec{b} &= z\vec{c} \Leftrightarrow \\ (x+1)\vec{a} + (y-3)\vec{b} + (-z-1)\vec{c} &= \vec{0}. \quad (1) \end{aligned}$$

Векторите \vec{a} , \vec{b} и \vec{c} са база, следователно са линейно независими, откъдето следва, че коефициентите в линейната комбинация (1) са равни на 0. Получаваме $x = -1$, $y = 3$ и $z = -1$.

Тогава $\vec{m} = -\vec{a} - 3\vec{b} - \vec{c}$, $\vec{n} = \vec{a} + 3\vec{b}$ и $\vec{m} - \vec{n} = -\vec{a} - 3\vec{b} - \vec{c} - (\vec{a} + 3\vec{b}) = -2\vec{a} - 6\vec{b} - \vec{c}$.

Дължината на вектора $\vec{m} - \vec{n}$ е равна на:

$$|\vec{m} - \vec{n}| = \sqrt{(-2\vec{a} - 6\vec{b} - \vec{c})^2} = \sqrt{4\vec{a}^2 + 36\vec{b}^2 + \vec{c}^2 + 0} = \sqrt{4 + 36 + 1} = \sqrt{41}.$$

Задача 14. Решение.

Векторите \vec{m} и \vec{n} са перпендикулярни, което означава, че тяхното скалярно произведение е 0, т.е. $\vec{m}\vec{n} = 0$,

$$\begin{aligned} ((x+1)\vec{a} + (y-1)\vec{b} + \vec{c})(\vec{a} + \vec{c}) &= 0, \\ (x+1)\vec{a}^2 + \vec{c}^2 &= 0 \text{ (записали сме само ненулевите събираеми)} \end{aligned}$$

Като използваме, че $\vec{a}^2 = \vec{c}^2 = 1$, намираме, че $x+1+1=0$, $x=-2$.

Тогава $\vec{u} = 2\vec{a} + x\vec{b} = 2\vec{a} - 2\vec{b}$ и

$$|\vec{u}| = \sqrt{(2\vec{a} - 2\vec{b})^2} = \sqrt{4\vec{a}^2 - 8\vec{a}\vec{b} + 4\vec{b}^2} = \sqrt{8} = 2\sqrt{2}.$$

Задача 15. Решение.

Определяме скалярните произведения на базисните вектори: $\vec{a}^2 = 4$, $\vec{b}^2 = 4$ и $\vec{a}\vec{b} = 2$.

От условието $\vec{m} \perp \vec{a}$ следва, че $\vec{m}\vec{a} = 0$, т.е. $(x\vec{a} + 2\vec{b})\vec{a} = 0$, $x\vec{a}^2 + 2\vec{a}\vec{b} = 0$, $4x + 4 = 0$, $x = -1$ и значи $\vec{m} = -\vec{a} + 2\vec{b}$.

Аналогично, от условието $\vec{n} \perp \vec{b}$ следва, че $\vec{n}\vec{b} = 0$, т.е. $(-2\vec{a} + 3y\vec{b})\vec{b} = 0$, $-2\vec{a}\vec{b} + 3y\vec{b}^2 = 0$, $-4 + 12y = 0$, $y = \frac{1}{3}$ и значи $\vec{n} = -2\vec{a} + \vec{b}$.

За дължините на векторите получаваме:

$$|\vec{m}| = \sqrt{(-\vec{a} + 2\vec{b})^2} = \sqrt{\vec{a}^2 - 4\vec{a}\vec{b} + 4\vec{b}^2} = \sqrt{4 - 8 + 16} = 2\sqrt{3}.$$

$$|\vec{n}| = \sqrt{(-2\vec{a} + \vec{b})^2} = \sqrt{4\vec{a}^2 - 4\vec{a}\vec{b} + \vec{b}^2} = \sqrt{16 - 8 + 4} = 2\sqrt{3}.$$

1.4. Координати на вектор в равнинна правоъгълна координатна система

Задача 3. Решение.

- а) $\overline{AB}(4-2, 5-3)$, $\overline{AB}(2, 2)$.
 б) $\overline{AB}(-2+8, -1+17)$, $\overline{AB}(6, 16)$.
 в) $\overline{AB}(-4-3, 0+10)$, $\overline{AB}(-7, 10)$.
 г) $\overline{AB}(-11+5, -5-2)$, $\overline{AB}(-6, -7)$.

Задача 4. Решение.

$$\begin{aligned} &\overline{AB}(-2-1, -7+3), \overline{AB}(-3, -4); \\ &\overline{CA}(1-5, -3-4), \overline{CA}(-4, -7); \\ &\overline{BD}(-8+2, 8+7), \overline{BD}(-6, 15); \\ &\overline{DB}(-2+8, -7-8), \overline{DB}(6, -15); \\ &\overline{AD}(-8-1, 8+3), \overline{AD}(-9, 11); \\ &\overline{DC}(5+8, 4-8), \overline{DC}(13, -4). \end{aligned}$$

Задача 5. Решение.

а) По условие $A(-1, 3)$ и нека $B(x, y)$, следователно $\overline{AB}(x+1, y-3)$ и тъй като $\overline{AB}(5, -4)$, получаваме системата $\begin{cases} x+1=5 \\ y-3=-4 \end{cases}$, $x=4$, $y=-1$ и $B(4, -1)$.

б) По условие $B(8, -4)$ и нека $A(x, y)$, следователно $\overline{AB}(8-x, -4-y)$ и тъй като $\overline{AB}(5, -4)$, получаваме системата $\begin{cases} 8-x=5 \\ -4-y=-4 \end{cases}$, $x=3$, $y=0$ и $A(3, 0)$.

Задача 6. Решение.

По условие $A(-1, -1)$ и нека $B(x, y)$ и $C(z, t)$. Тогава $\overline{AB}(x+1, y+1)$ и $\overline{CA}(-1-z, -1-t)$.

Тъй като $\overline{AB}(4, 3)$ и $\overline{CA}(3, -6)$, получаваме системите $\begin{cases} x+1=4 \\ y+1=3 \end{cases}$ и $\begin{cases} -1-z=3 \\ -1-t=-6 \end{cases}$, откъдето намираме $x=3$, $y=2$, $z=-4$ и $t=5$.

За координатите на B и C и на вектора \overline{BC} имаме $B(3, 2)$, $C(-4, 5)$ и $\overline{BC}(-4-3, 5-2)$, $\overline{BC}(-7, 3)$.

1.5. Операции с вектори, зададени с координати

Задача 4. Решение.

$$-\vec{a}(2, -3);$$

$$3\vec{a}(3 \cdot (-2), 3 \cdot 3), 3\vec{a}(-6, 9);$$

$$-4\vec{b}(-4 \cdot 1, -4 \cdot (-4)), -4\vec{b}(-4, 16);$$

$$\vec{a} + \vec{b}(-2 + 1, 3 - 4), \vec{a} + \vec{b}(-1, -1);$$

$$\vec{a} - \vec{b}(-2 - 1, 3 - (-4)), \vec{a} - \vec{b}(-3, 7);$$

$$2\vec{a} - 3\vec{b}(2 \cdot (-2) - 3 \cdot 1, 2 \cdot 3 - 3 \cdot (-4)), 2\vec{a} - 3\vec{b}(-7, 18).$$

Задача 5. Решение.

а) $\vec{a} + \vec{b} + \vec{c} + \vec{d}(3 + 2 + 1 + 2, -1 + 2 + 3 - 1), \vec{a} + \vec{b} + \vec{c} + \vec{d}(8, 3);$

б) $3\vec{c}(3, 9);$

в) $\vec{b} - 2\vec{a} + 2\vec{d} - 2\vec{c}(2 - 6 + 4 - 2, 2 + 2 - 2 - 6), \vec{b} - 2\vec{a} + 2\vec{d} - 2\vec{c}(-2, -4).$

Задача 6. Решение.

$$\vec{u} = 2\vec{a} - 2\vec{b}, \vec{u}(2 \cdot 2 - 2 \cdot (-2), 2 \cdot 2 - 2 \cdot (-2)), \vec{u}(8, 8);$$

$$\vec{v} = 2\vec{u} + \vec{b}, \vec{v}(2 \cdot 8 - 2, 2 \cdot 8 - 2), \vec{v}(14, 14).$$

Задача 7. Решение.

$$\vec{m} = -\vec{a} - \vec{b}, \vec{m}(-\alpha - 1 + 2, -3 - \alpha), \vec{m}(1 - \alpha, -3 - \alpha);$$

$$\vec{n} = \vec{a} - 2\vec{b}, \vec{n}(\alpha + 1 + 4, 3 - 2\alpha), \vec{n}(\alpha + 5, 3 - 2\alpha);$$

$$\vec{p} = x\vec{b}, \vec{p}(-2x, \alpha x).$$

Задача 8. Решение.

$$\vec{m} = 2\vec{a}, \vec{m}(-6, 6);$$

$$\vec{p} = \vec{a} + \vec{b}, \vec{p}(2, 5);$$

$$\vec{u} = 3\vec{a} + \frac{1}{2}\vec{b}, \vec{u}(-9 + \frac{1}{2} \cdot 5, 9 + 1), \vec{u}(-\frac{13}{2}, 10).$$

Задача 9. Решение.

За координатите на вектора \vec{m} намираме $\vec{m} = \vec{a} + x\vec{b}(1 + 2x, -2 + 3x).$

Векторите \vec{m} и \vec{c} са колинеарни, следователно съществува число λ , така че $\vec{m} = \lambda\vec{c}(\lambda, 2\lambda).$

Координатите на вектор са еднозначно определени, следователно получаваме системата:

$$\begin{cases} 1 + 2x = \lambda \\ -2 + 3x = 2\lambda \end{cases}, \text{откъдето } x = -4, \lambda = -7 \text{ и } \vec{m}(-7, -14).$$

За вектора $3\vec{m}$ получаваме $3\vec{m}(-21, -42).$

Задача 10. Решение.

$$|\vec{a}| = \sqrt{4+9} = \sqrt{13};$$

$$|\vec{b}| = \sqrt{9+4} = \sqrt{13};$$

$$|\vec{c}| = \sqrt{4+9} = \sqrt{13};$$

$$|\vec{d}| = \sqrt{9+4} = \sqrt{13}.$$

Задача 11. Решение.

а) $\overline{AB}(-4, -2)$, $|\overline{AB}| = \sqrt{16+4} = 2\sqrt{5}$;

б) $\overline{AB}(-1, -1)$, $|\overline{AB}| = \sqrt{1+1} = \sqrt{2}$;

в) $\overline{AB}(1, 4)$, $|\overline{AB}| = \sqrt{1+16} = \sqrt{17}$.

Задача 12. Решение.

а) $\vec{a}\vec{b} = 1 \cdot (-2) + 3 \cdot 1 = -2 + 3 = 1$;

б) $\vec{a}\vec{b} = 3.5 + \frac{1}{2} \cdot 4 = 15 + 2 = 17$;

в) $\vec{a}\vec{b} = -1.3 + (-1) \cdot 2 = -3 - 2 = -5$.

Задача 13. Решение.

Използваме формулата $\cos \angle(\vec{a}, \vec{b}) = \frac{\vec{a}\vec{b}}{|\vec{a}||\vec{b}|}$.

а) $\vec{a}\vec{b} = -2 - 2 = -4$

$$|\vec{a}| = \sqrt{4+1} = \sqrt{5}$$

$$|\vec{b}| = \sqrt{1+4} = \sqrt{5}$$

$$\cos \angle(\vec{a}, \vec{b}) = \frac{\vec{a}\vec{b}}{|\vec{a}||\vec{b}|} = \frac{-4}{\sqrt{5}\sqrt{5}} = -\frac{4}{5}$$

б) $\vec{a}\vec{b} = 6 + 6 = 12$

$$|\vec{a}| = \sqrt{9+9} = 3\sqrt{2}$$

$$|\vec{b}| = \sqrt{4+4} = 2\sqrt{2}$$

$$\cos \angle(\vec{a}, \vec{b}) = \frac{\vec{a}\vec{b}}{|\vec{a}||\vec{b}|} = \frac{12}{3\sqrt{2} \cdot 2\sqrt{2}} = 1$$

в) $\vec{a}\vec{b} = -8 + 2 = -6$

$$|\vec{a}| = \sqrt{16+4} = 2\sqrt{5}$$

$$|\vec{b}| = \sqrt{4+1} = \sqrt{5}$$

$$\cos \angle(\vec{a}, \vec{b}) = \frac{\vec{a}\vec{b}}{|\vec{a}||\vec{b}|} = \frac{-6}{2\sqrt{5}\sqrt{5}} = -\frac{3}{5}$$

Задача 14. Решение.

Намираме координатите на векторите, след което и техните дължини.

$$2\vec{a}(6,4), \quad |2\vec{a}| = \sqrt{36+16} = 2\sqrt{13}$$

$$\vec{a} + \vec{b} (3-1, 2+1), \quad \vec{a} + \vec{b} (2,3), \quad |\vec{a} + \vec{b}| = \sqrt{4+9} = \sqrt{13}.$$

$$2\vec{a} - 3\vec{b} (2.3 - 3.(-1), 2.2 - 3.1), \quad 2\vec{a} - 3\vec{b} (9,1), \quad |2\vec{a} - 3\vec{b}| = \sqrt{81+1} = \sqrt{82}.$$

Задача 15. Решение.

За координатите на $\vec{a} - \vec{b}$ имаме: $\vec{a} - \vec{b} (-2+2, -1+3), \vec{a} - \vec{b} (0, 2)$.

Изразяваме вектора $\vec{m} + \vec{a}$, като линейна комбинация на векторите \vec{a} и \vec{b} и тъй като знаем техните координати, то ще намерим и координатите на $\vec{m} + \vec{a}$.

$$\vec{m} + \vec{a} = x\vec{a} - 2\vec{b} + \vec{a} = (x+1)\vec{a} - 2\vec{b}.$$

$$\vec{m} + \vec{a} ((x+1)(-2) - 2.(-2), (x+1)(-1) - 2(-3)), \quad \vec{m} + \vec{a} (-2x+2, -x+5).$$

Векторите $\vec{m} + \vec{a}$ и $\vec{a} - \vec{b}$ са колинеарни $\Rightarrow -2x+2=0$. $x=1$.

Тогава $\vec{m} + \vec{a} (0, 4)$ и $|\vec{m} + \vec{a}| = \sqrt{0+16} = 4$.

Задача 16. Решение.

Намираме координатите на вектора \vec{p} : $\vec{p}(3.2 - \lambda(-1), 3.3 - \lambda 2), \vec{p}(6 + \lambda, 9 - 2\lambda)$.

Координатите на $\vec{a} - \vec{b}$ са: $\vec{a} - \vec{b}(3, 1)$.

Векторите \vec{p} и $\vec{a} - \vec{b}$ са перпендикулярни, следователно тяхното скалярно произведение е 0.

Така получаваме уравнение за λ : $\vec{p}(\vec{a} - \vec{b}) = 0$, $(6 + \lambda).3 + (9 - 2\lambda).1 = 0$, $\lambda = -27$.

За координатите и дължината на \vec{p} последователно намираме:

$$\vec{p}(-21, 63), \quad |\vec{p}| = \sqrt{21^2 + 63^2} = \sqrt{21^2 + 9.21^2} = 21\sqrt{10}.$$

Задача 17. Решение.

Последователно намираме:

$$\overline{AB}(-4, -3), \quad \overline{BC}(1, 5), \quad \overline{AC}(-3, 2).$$

$$|\overline{AB}| = \sqrt{16+9} = 5; \quad |\overline{BC}| = \sqrt{1+25} = \sqrt{26}, \quad |\overline{AC}| = \sqrt{13}.$$

$$\overline{AB} \overline{AC} = 12 - 6 = 6.$$

$$\cos \angle(\overline{AB}, \overline{AC}) = \frac{6}{5\sqrt{13}} = \frac{6\sqrt{13}}{65}.$$

Задача 18. Решение.

Нека M , N и P са средите съответно на страните BC , AC и AB на $\triangle ABC$.

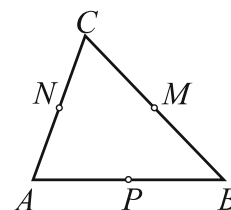
Последователно намираме:

$$\overrightarrow{AB}(-6, 4), \overrightarrow{AC}(-2, 6), \overrightarrow{BC}(4, 2).$$

$$\overrightarrow{AM} = \frac{1}{2}(\overrightarrow{AB} + \overrightarrow{AC}) \Rightarrow \overrightarrow{AM}(-4, 5) \text{ и } |\overrightarrow{AM}| = \sqrt{16 + 25} = \sqrt{41}.$$

$$\overrightarrow{BN} = \frac{1}{2}(\overrightarrow{BA} + \overrightarrow{BC}) \Rightarrow \overrightarrow{BN}(5, -1) \text{ и } |\overrightarrow{BN}| = \sqrt{25 + 1} = \sqrt{26}.$$

$$\overrightarrow{CP} = \frac{1}{2}(\overrightarrow{CA} + \overrightarrow{CB}) \Rightarrow \overrightarrow{CP}(-1, -4) \text{ и } |\overrightarrow{CP}| = \sqrt{1 + 16} = \sqrt{17}.$$



Задача 19. Решение.

Нека O е пресечната точка на диагоналите на успоредника. Следователно O е средата на BD

и нейните координати са $O\left(\frac{3+2}{2}, \frac{4+1}{2}\right), O\left(\frac{5}{2}, \frac{5}{2}\right)$.

Нека $A(x, y)$ и тъй като O е средата и на AC , то координатите на точка O са $O\left(\frac{7+x}{2}, \frac{5+y}{2}\right)$.

Така получаваме системата
$$\begin{cases} \frac{7+x}{2} = \frac{5}{2} \\ \frac{5+y}{2} = \frac{5}{2} \end{cases}$$
, откъдето $x = -2, y = 0$. Следователно $A(-2, 0)$.

За страните на успоредника намираме:

$$\overrightarrow{AB}(5, 1), |\overrightarrow{AB}| = \sqrt{26}$$

$$\overrightarrow{BC}(4, 4), |\overrightarrow{BC}| = 4\sqrt{2}.$$

Задача 20. Решение.

Нека $C(x, y)$.

Точка S е средата на AC , следователно $S\left(\frac{x+1}{2}, \frac{y+3}{2}\right)$ и тъй като $S(5, 2)$,

$$\text{то } \frac{x+1}{2} = 5, x = 9 \text{ и } \frac{y+3}{2} = 2, y = 1 \Rightarrow C(9, 1).$$

Аналогично намираме $D(4, 4)$.

$$\overrightarrow{AC}(8, -2), |\overrightarrow{AC}| = \sqrt{64 + 4} = 2\sqrt{17}.$$

$$\overrightarrow{BD}(-2, 4), |\overrightarrow{BD}| = \sqrt{4 + 16} = 2\sqrt{5}.$$